







Wer frisst wen? - Teil 1

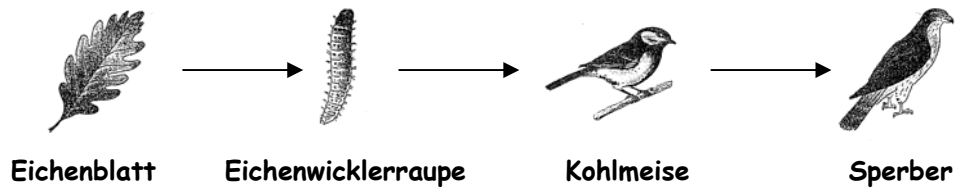
Aufgabe1: Fülle die Tabelle mit Hilfe des Informationsmaterials oder der selbst erstellten Plakate aus. Beginne mit deinem eige-nen Plakat und gehe dann weiter zum nächsten.

	Nahrung	Feinde	
			Pfl
			
			
			
			
			

Aufgabe2: Entscheide, ob es sich bei diesen Tieren um Pflanzen-fresser (Pfl), Fleischfresser (Fl) oder Allesfresser (A) handelt und trage die Kürzel entsprechend in die rechte Spalte ein. Suche auf dem Infoblatt einen Fleischfresser und schreibe ihn in die unterste Spalte. Du kannst diese Aufgabe auch zusammen mit deinem Nachbarn bearbeiten.

Wer frisst wen? - Teil 2

Wie du an dem Beispiel siehst, sind Pflanzen und Tiere des Waldes Glieder einer Nahrungskette.



Aufgabe3: Stelle solche Nahrungsketten dar, indem du entsprechende Pflanzen und Tiere auf die Striche schreibst. Die Pfeile bedeuten "wird gefressen von...". Nimm deine Tabelle und die untere Abbildung zu Hilfe. Die Kette beginnt immer mit einer Pflanze.

_____	→	_____	→	_____	→	_____
_____	→	_____	→	_____	→	_____
_____	→	_____	→	_____	→	_____

